



CORPORACIÓN EDUCACIONAL SANTA VICTORIA.  
HISTORIA, GEOGRAFÍA Y CS. SOCIALES.  
TERCERO BÁSICO  
PROFESORA: BLANCA SOTO ÁVILA

Puntaje Ideal:	Nota:
Puntaje Real:	

## Prueba de Historia, Geografía y Ciencias Sociales "Unidad Cero"

<b>Nombre del alumno(a):</b>	
<b>Fecha de aplicación :</b> ____/____/____	<b>Fecha de entrega:</b> ____/____/____

### Objetivos de aprendizaje:

- Identificar los países vecinos de Chile, Océanos y ubicación dentro del continente americano.
- Pueblos originarios de Chile: costumbres, idioma, creencias, alimentación, fiestas y tradiciones, ubicación geográfica, vivienda. Diversidad cultural en la sociedad actual.
- Reconocer diversas expresiones del patrimonio cultural del país.
- Reconocer diversas expresiones del patrimonio natural de Chile.
- Identificar la labor que cumplen en beneficio de la comunidad algunas instituciones encargadas de proteger nuestro patrimonio cultural y natural.
- Reconocer y valorar las expresiones de la cultura chilena (celebraciones, tradiciones, costumbres, comidas, sitios históricos, monumentos, etc.) y su patrimonio.

### Indicaciones generales:

- Lea la prueba con detención, cuidando responder lo que se pregunta.
- Cada pregunta tiene una respuesta correcta, la que deberá marcar con una X.
- Dispondrá de 90 minutos para responder la prueba.
- Está prohibido el uso de celular u otro instrumento que facilite las respuestas.
- Si presenta alguna duda pregunte al profesor de la asignatura.

I. Selección múltiple. (2 pts.)

Observa el mapa y responde las preguntas 1 a la 5.



1

¿Cómo se llama el océano que baña las costas de nuestro país?

- A. Océano Atlántico.
- B. Océano Indico
- C. Océano Antártico
- D. Océano Pacífico

2

¿Qué país limita con Chile ?

- A. Argentina.
- B. Colombia.
- C. Venezuela
- D. Uruguay

3

¿En qué continente se encuentra Chile?

- A. América.
- B. Europa.
- C. África.
- D. Asia.

4

¿Cuál de los siguientes países NO limita con Chile?

- A. Bolivia.
- B. Argentina.
- C. Perú.
- D. Brasil.

5

¿Qué país NO se encuentra en América?

- A. Argentina.
- B. Bolivia.
- C. Francia.
- D. Venezuela

6

En Chile habitaron diversos pueblos antes de la llegada de Cristóbal Colón a América, hoy llamados Pueblos Originarios.¿En qué lugar de Chile habitaron estos pueblos?


- A. En el norte del país.
- B. En el centro
- C. En el sur
- D. En todo el país

7

Uno de los pueblos originarios de Chile fueron los:

- A. Apaches.
- B. Mapuches.
- C. Incas.
- D. Comanches.

8


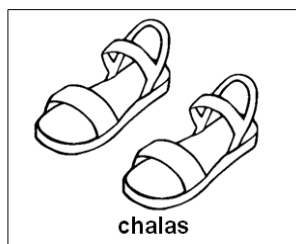



De acuerdo a la imagen, ¿qué actividades realizaban los atacameños?

- A. Agricultura y pastoreo.
- B. Caza de guanacos y ñandúes.
- C. Pesca en canoa.
- D. Recolección de mariscos.

9

¿Cuál de estas palabras es una herencia de un pueblo originario?



- A. Zapatillas.
- B. Chalas.
- C. Botas.
- D. Todas las anteriores.

10

Los pueblos nómadas tenían en común que...:

- A. Desarrollaron la agricultura.
- B. Habitaban en aldeas o ciudades.
- C. Vivían de la crianza del ganado.
- D. Viajaban de un lugar a otro en busca de alimento.

11



El pastel de choclo es una comida tradicional chilena que se prepara con maíz, carne de pollo y vacuno, cebolla, huevo y aceitunas.

**¿Qué ingrediente del pastel de choclo es una herencia de los pueblos originarios?**

- A. Choclo o maíz.
- B. Cebolla.
- C. Carne de pollo.
- D. Carne de vacuno.

12

**La palabra “inmigrante” significa que...:**

- A. Es nómada.
- B. Llega desde otro país.
- C. Se va de un país a otro.
- D. Se mezcla con otro país.

13

**¿Cuál de estas imágenes representa una expresión del patrimonio cultural de Chile?**



**Moais**



**Lago Chungará**



**Portada de Antofagasta**

- A. Moaís.
- B. Lago Chungará.
- C. Portada de Antofagasta.
- D. Ninguna de las anteriores.

¿Cuál de las imágenes representa un elemento del patrimonio natural de Chile ?



**Torres del Paine**



**La cueca**



**Mitos y leyendas chilenas**

- A. Torres del Paine.
- B. La cueca.
- C. Mitos y leyendas chilenas.
- D. Todas son correctas.

**Lee el texto y responde:**



En la Corporación Nacional Forestal (CONAF) nos encargamos de cuidar y desarrollar los bosques y las áreas silvestres protegidas como parques y reservas nacionales.

**¿Cuál es la importancia de la Conaf?**

- A. Protege el patrimonio natural de Chile.
- B. Genera ingresos económicos para el país.
- C. Mantiene la buena convivencia entre los vecinos.
- D. Repara casa e iglesias antiguas.

16

Observa la imagen y responde las preguntas 16 y 17



¿Qué es lo que **NO** deben hacer los visitantes de este parque?

- A. Respetar el entorno .
- B. Caminar por sus senderos.
- C. Cuidar la flora y fauna del lugar.
- D. Botar basura y hacer fuego.

17

¿Por qué es importante cuidar este parque?

- A. Para que sea usado como zoológico.
- B. Para que pueda ser vendido en el futuro.
- C. Para respetar el patrimonio natural del país.
- D. Para que se pueda construir un supermercado.

18

Una de las **tradiciones** de Chile en sus Fiestas Patrias es:

- A. Comer empanadas.
- B. Hacer asados.
- C. Bailar cueca.
- D. Todas las anteriores.

19

¿Cuál es el baile típico de Chile?

- A. Cueca.
- B. Cumbia.
- C. Sau-Sau.
- D. Trote.

20

¿Cuál de las acciones demuestran respeto por los demás ?

- A. Mantener a mis compañeros fuera de los juegos.
- B. Rayar la mesa de mis compañeros.
- C. Compartir los espacios con los demás.
- D. No respetar los turnos y normas de los juegos.